


**Subiectul I (50 puncte) – Se dă următorul text muzical în tonalitatea Do major:**




**a) Numerotează treptele textului muzical dat: (10 puncte)**


**b) Scrie arpegiul gamei Do major: (10 puncte)**





**c) Analizează gama Do major: (20 puncte)**



**d) Extrage din textul muzical dat două tonuri și două semitonuri: (10 puncte)**



**Subiectul al II – lea (40 puncte) – Alege varianta corectă:**

<p>1. Ce vers urmează după: ”Priviți mărețe umbre, Mihai, Ștefan, Corvine/...”?</p> <p>a) ”Româna națiune, ai noștri strănepoți” b) ”Româna națiune, ai voștri strănepoți” c) ”Preoți cu crucea-n frunte, căci oastea e creștină” d) ”A noastră națiune, ai noștri strănepoți”</p>	<p>2. "Frecvența" este proprietatea fizică a sunetului care îi determină:</p> <p>a) Înălțimea b) Durata c) Intensitatea d) Timbrul</p>	<p>3. Ce valoare are și cât durează nota din imagine?</p>  <p>a) pătrime - un timp b) doime - doi timpi c) optime - jumătate de timp d) șaisprezecime - un sfert de timp</p>	<p>4. Cum se numește instrumentul format dintr-o membrană întinsă pe o emisferă de metal, la care înălțimea sunetului produs poate fi ajustată prin tensionarea membranei?</p> <p>a) Bucium b) Timpan c) Bandoneon d) Saxofon</p>
<p>5. Care este termenul ce denumește vocea înaltă de bărbat?</p> <p>a) Tenor b) Tempo c) Bas d) Bemol</p>	<p>6. Ce notă este aceasta?</p>  <p>a) Do b) Mi c) Sol d) La</p>	<p>7. ”Allegro” este un termen care indică:</p> <p>a) O mișcare b) O intensitate c) O înălțime d) O pauză</p>	<p>8. Ce este libretul?</p> <p>a) Un cântec b) Un text c) Un concert a) Un imn</p>
<p>9. Antonio Vivaldi a scris:</p> <p>a) Clavecinul bine temperat b) Anotimpurile c) Arta fugii d) Sonata lunii</p>	<p>10. Câte strofe are Imnului României „Deșteaptă-te, române!”</p> <p>a) 4 b) 9 c) 6 d) 11</p>	<p>11. "Intensitatea" este calitatea sunetului de fi :</p> <p>a) acut sau grav b) tare sau încet c) lung sau scurt d) unic.</p>	<p>12. Vocea acută femeiască de numește:</p> <p>a) Sopran b) Mezzosopran c) Tenor d) Alto</p>
<p>13. Cine este compozitorul lucrării "Sonata Lunii"?</p> <p>a) Tomaso Albinoni b) Ludwig van Beethoven c) Johann Sebastian Bach d) Wolfgang Amadeus Mozart</p>	<p>14. Simfonia este un gen muzical interpretat de:</p> <p>a) Orchestră b) Cor și orchestră c) Instrument solist și orchestră d) Soliști vocali și cor</p>	<p>15. Opera "Flautul fermecat" a fost compusă de:</p> <p>a) Antonio Vivaldi b) Wolfgang Amadeus Mozart c) Georg Friedrich Händel d) Joseph Haydn</p>	<p>16. Cum se numește instrumentul la care coardele ciupite vibrează liber perpendicular pe placa de rezonanță?</p> <p>a) Harpă b) Blockflote c) Oboi d) Ocarină</p>
<p>17. Care este cel mai vechi instrument muzical de suflat descoperit în Germania în urmă cu 35.000 ani?</p> <p>a) Talgere b) Teremin c) Trianglu d) Fluier</p>	<p>18. Valoarea muzicală cea mai mare este:</p> <p>a) Doimea cu punct b) Șaisprezecimea c) Nota întregă d) Pătrimea</p>	<p>19. Între ce ani se manifestă „Barocul muzical”?</p> <p>a) 1500 -1600 b) 1600 – 1750 c) 1800 -1900 d) 1700 – 1850</p>	<p>20. Cine a compus muzica Imnului României „Deșteaptă-te, române!”</p> <p>a) Ciprian Porumbescu b) Andrei Mureșanu c) Anton Pann d) George Enescu</p>

Barem: Subiectul I – 50 puncte + Subiectul al II – lea – 40 puncte + Oficiu – 10 puncte = 100 puncte  
Timp de lucru: 45 minute

**Subiectul I (50 puncte) – Se dă următorul text muzical în tonalitatea Do major:**

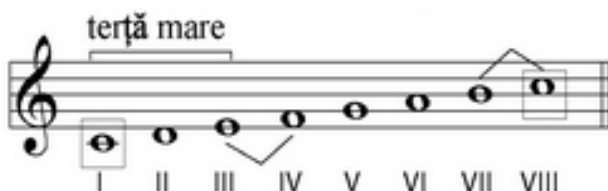
**a) Numerotează treptele textului muzical dat: (10 puncte)**

Numerotarea se va face cu cifre romane sub notele textului muzical dat: I, II, III, IV, V, III, I, II, III, IV, III, II, III, II, V, VIII, VII, VI, V, IV, III, VI, V, IV, III, II, I.

**b) Scrie arpegiul gamei Do major: (10 puncte)**



**c) Analizează gama Do major: (20 puncte)**




**d) Extrage din textul muzical dat două tonuri și două semitonuri: (10 puncte)**

DO – RE = ton; RE – MI = ton;

MI – FA = semiton/ FA – MI

SI – DO = semiton



**Subiectul al II – lea (40 puncte) – Alege varianta corectă: câte 2 puncte pentru fiecare răspuns corect.**

**Răspunsul corect este:**

**1.b; 2.a; 3.c; 4.b; 5.a; 6.d; 7.a; 8.b; 9.b; 10.d; 11.b; 12.a; 13.b; 14.a; 15.b; 16.a; 17.d; 18.c; 19.b; 20.c.**

Punctaj:

Subiectul I – 50 puncte +

Subiectul al II – lea – 40 puncte +

Oficiu – 10 puncte

Total = 100 puncte

Timp de lucru: 45 minute